

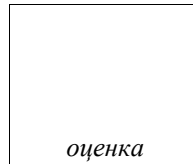


Самостоятельная работа  
по теме «Площади многоугольников на координатной сетке»  
10—11 класс

Вариант 1, легкий уровень

Ф.И.О. ученика: \_\_\_\_\_

Дата работы: « \_\_\_\_ » \_\_\_\_\_ 20 \_\_\_\_ г.



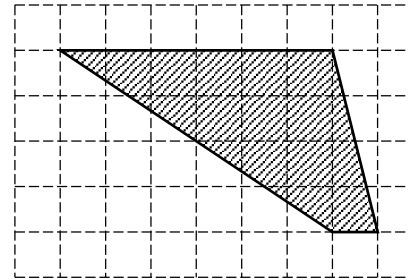
Бланк ответов: задачи В1—В12

В1	В2	В3	В4
В5	В6	В7	В8
В9	В10	В11	В12

**Ответом на задачи В1—В12 может быть любое число и выражение.  
Простой ответ не всегда является признаком правильного решения.**

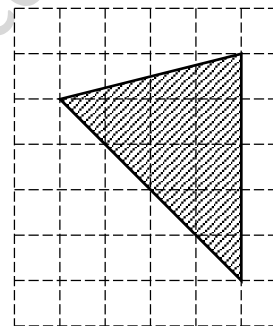
Решите задачу (В1—В12):

В1



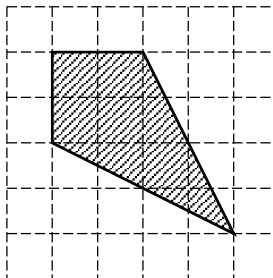
Найдите \_\_\_\_\_ площадь  
четырёхугольника, изображенного  
на клетчатой бумаге с размером  
клетки 1 см × 1 см (см. рисунок).  
Ответ дайте в квадратных  
сантиметрах.

В2



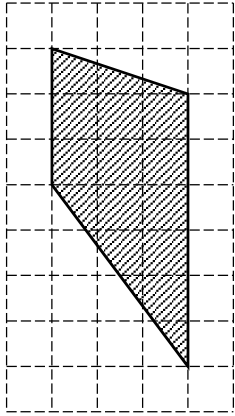
Найдите площадь треугольника, изображенного  
на клетчатой бумаге с размером клетки  
1 см × 1 см (см. рисунок). Ответ дайте  
в квадратных сантиметрах.

В3



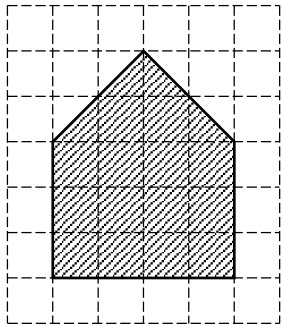
Найдите \_\_\_\_\_ площадь  
четырёхугольника,  
изображенного на клетчатой бумаге с размером  
клетки 1 см × 1 см (см. рисунок). Ответ дайте  
в квадратных сантиметрах.

**B4**



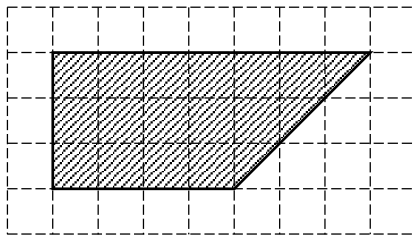
Найдите площадь четырехугольника, изображенного на клетчатой бумаге с размером клетки  $1\text{ см} \times 1\text{ см}$  (см. рисунок). Ответ дайте в квадратных сантиметрах.

**B5**



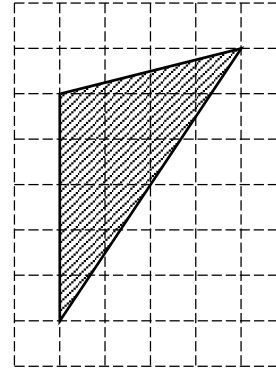
Найдите площадь пятиугольника, изображенного на клетчатой бумаге с размером клетки  $1\text{ см} \times 1\text{ см}$  (см. рисунок). Ответ дайте в квадратных сантиметрах.

**B6**



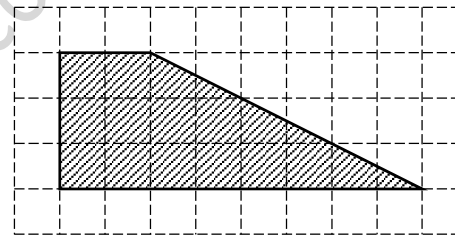
Найдите площадь четырехугольника, изображенного на клетчатой бумаге с размером клетки  $1\text{ см} \times 1\text{ см}$  (см. рисунок). Ответ дайте в квадратных сантиметрах.

**B7**



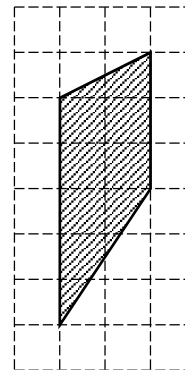
Найдите площадь треугольника, изображенного на клетчатой бумаге с размером клетки  $1\text{ см} \times 1\text{ см}$  (см. рисунок). Ответ дайте в квадратных сантиметрах.

**B8**



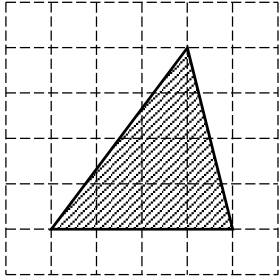
Найдите площадь 4-угольника, изображенного на клетчатой бумаге с размером клетки  $1\text{ см} \times 1\text{ см}$  (см. рисунок). Ответ дайте в квадратных сантиметрах.

**B9**



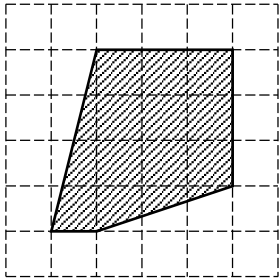
Найдите площадь четырехугольника, изображенного на клетчатой бумаге с размером клетки  $1\text{ см} \times 1\text{ см}$  (см. рисунок). Ответ дайте в квадратных сантиметрах.

**B10**



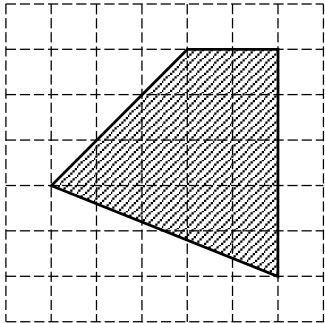
Найдите площадь треугольника, изображенного на клетчатой бумаге с размером клетки  $1 \text{ см} \times 1 \text{ см}$  (см. рисунок). Ответ дайте в квадратных сантиметрах.

**B11**



Найдите площадь пятиугольника, изображенного на клетчатой бумаге с размером клетки  $1 \text{ см} \times 1 \text{ см}$  (см. рисунок). Ответ дайте в квадратных сантиметрах.

**B12**



Найдите площадь четырехугольника, изображенного на клетчатой бумаге с размером клетки  $1 \text{ см} \times 1 \text{ см}$  (см. рисунок). Ответ дайте в квадратных сантиметрах.